

Государственное бюджетное общеобразовательное учреждение  
средняя общеобразовательная школа № 321  
Центрального района  
Санкт-Петербурга

**«Рассмотрено»**

на методическом совете  
ГБОУ СОШ № 321  
Протокол № 12 от 20. 06. 2022г.

**«Принято»**

на педагогическом совете  
ГБОУ СОШ № 321  
Протокол № 1 от 30. 08. 2022г.

**«Утверждаю»**

Директор ГБОУ СОШ № 321

\_\_\_\_\_ Е.М.Анцырева  
Пр. № 110.1-о от 31. 08. 2022г.

## **РАБОЧАЯ ПРОГРАММА**

учебного предмета

«Геометрия»

7 класс

базовый уровень

68 часов в год

**Составитель:**  
Гаврилова К.А.  
учитель математики  
кв. категория - нет

2022 – 2023 учебный год

Санкт-Петербург

## **Рабочая программа по геометрии (базовый уровень) для 7 класса.**

**Рабочая программа ориентирована на использование учебного комплекса:**

Учебник для 7 класса: «Геометрия. 7- 9 класс»//автор Атанасян Л. С., Бутузов В. Ф. и др, М.: Просвещение, 2016-2020г.

Номер учебника из федерального перечня 1.1.2.4.3.1.1.

**(2 часа в неделю, всего - 68 часов в год, контрольных работ – 5)**

### **Структура документа.**

Рабочая программа включает в себя:

1. Титульный лист.
2. Пояснительная записка.
3. Учебно-тематический план.
4. Содержание тем учебного курса.
5. Требования к уровню подготовки учащихся, обучающихся по данной программе.
6. Учет достижений учащихся, формы и средства контроля.
7. Список литературы.
8. Календарно-тематическое планирование.
9. Приложения к программе.

### **Пояснительная записка**

#### **Статус документа.**

Данная рабочая программа составлена в соответствии со следующими документами:

- Федерального Закона от 29.12.2012 № 273-ФЗ «Об образовании в Российской Федерации»;
- Федерального государственного образовательного стандарта основного общего образования, утвержденного приказом Министерства образования и науки Российской Федерации от 17.12.2010 № 1897 (далее - ФГОС основного общего образования);
- Порядка организации и осуществления образовательной деятельности по основным общеобразовательным программам – образовательным программам начального общего, основного общего и среднего общего образования, утвержденного приказом Минпросвещения России от 22.03.2021 №115;
- Примерная основная образовательная программа среднего общего образования (одобрена решением федерального учебно-методического объединения по общему образованию (протокол от 28 июня 2016г. № 2/16-з);
- федерального перечня учебников, допущенных к использованию при реализации имеющих государственную аккредитацию образовательных программ начального общего, основного общего, среднего общего образования организациями, осуществляющими образовательную деятельность, утвержденного приказом Минпросвещения России от 20.05.2020 № 254;
- перечня организаций, осуществляющих выпуск учебных пособий, которые допускаются к использованию при реализации имеющих государственную аккредитацию образовательных программ начального общего, основного общего, среднего общего

образования, утвержденного приказом Министерства образования и науки Российской Федерации от 09.06.2016 № 699;

- санитарных правил СП 2.4.3648-20 «Санитарно-эпидемиологические требования к организациям воспитания и обучения, отдыха и оздоровления детей и молодежи», утвержденных постановлением Главного государственного санитарного врача Российской Федерации от 28.09.2020 № 28 (далее - СП 2.4.3648-20);
- санитарных правил и норм СанПиН 1.2.3685-21 «Гигиенические нормативы и требования к обеспечению безопасности и (или) безвредности для человека факторов среды обитания», утвержденных постановлением Главного государственного санитарного врача Российской Федерации от 28.01.2021 № 2 (далее - СанПиН 1.2.3685-21);

и с учетом:

- Основной образовательной программы основного общего образования ГБОУ СОШ №321;
- Учебного плана ГБОУ школы №321 на 2022/2023 учебный год
- Устава ГБОУ школа № 321 Центрального района Санкт-Петербурга
- Сборника рабочих программ «Геометрия. 7-9 класс» // под ред. Бурмистровой Т.А., М., Просвещение, 2016
- 7 класс. Геометрия. (авторы Атанасян Л. С., Бутузов В. Ф. и др.). 68 часов в год. 2 часа в неделю

### **Цели**

Изучение геометрии в 7 классе направлено на достижение следующих целей:

- овладение системой математических знаний и умений, необходимых для применения в практической деятельности, изучения смежных дисциплин, продолжения образования;
- интеллектуальное развитие, формирование качеств личности, необходимых человеку для полноценной жизни в современном обществе, свойственных математической деятельности: ясности и точности мысли, критичности мышления, интуиции, логического мышления, элементов алгоритмической культуры, способности к преодолению трудностей;
- формирование представлений об идеях и методах математики как универсального языка науки и техники, средства моделирования явлений и процессов;
- **воспитание** культуры личности, отношения к математике как к части общечеловеческой культуры, играющей особую роль в общественном развитии.

### **Задачи на 2022-2023 учебный год.**

Основную задачу своей педагогической деятельности вижу в создании на уроках математики такой образовательной среды, которая способствует самореализации учеников, повышению их образовательного уровня, формированию коммуникативных навыков, творческого мышления, познавательной активности. Стараюсь создавать благоприятные условия для достижения всеми школьниками базового уровня подготовки, соответствующего Федеральному государственному стандарту.

**Для достижения своей цели и поставленных мною задач** на 2022-2023 учебный год хочу выбрать тему самообразования «Использование технологий интерактивного обучения на уроках математики». Применение этих технологий способствует выработке самостоятельности,

заинтересованности учащихся в конечном результате, обеспечивает положительную мотивацию к изучению математики, формирует устойчивый познавательный интерес к предмету, повышает качество знаний.

Применение интерактивных технологий дает ученикам:

- развитие личностной рефлексии;
- осознание включенности в общую работу;
- становление активной субъектной позиции в учебной деятельности;
- развитие навыков общения;
- принятие нравственности норм и правил совместной деятельности;
- повышение познавательной активности.
- формирование класса как групповой общности;
- повышение познавательного интереса;
- развитие навыков анализа и самоанализа в процессе групповой рефлексии

### **Роль и место предмета в федеральном базисном учебном плане:**

Согласно федеральному базисному учебному плану на изучение математики в 7 классе отводится 68 часов из расчета: 2 часа в неделю, в том числе 5 ч для проведения контрольных работ. При этом в ней предусмотрен резерв свободного учебного времени в объеме 9 часов для использования разнообразных форм организации учебного процесса, внедрения современных методов обучения и педагогических технологий.

Изменение часов по некоторым темам основано на практическом опыте преподавания геометрии в 7 классе.

Основная форма организации образовательного процесса – классно-урочная система.

#### Формы организации учебного процесса:

- индивидуальные,
- групповые,
- индивидуально-групповые,
- фронтальные,
- классные,
- внеклассные.

Предусматривается применение следующих технологий обучения:

1. традиционная классно-урочная
2. игровые технологии
3. элементы проблемного обучения
4. технологии уровневой дифференциации
5. здоровье сберегающие технологии
6. ИКТ

Виды и формы контроля: промежуточный, предупредительный контроль; контрольные работы, тесты, самостоятельные работы.

### **Общая характеристика учебного предмета**

*Геометрия* — один из важнейших компонентов математического образования, необходимый для приобретения конкретных знаний о пространстве и практически значимых умений, формирования языка описания объектов окружающего мира, для развития пространственного воображения и интуиции, математической культуры, для эстетического воспитания учащихся. Изучение геометрии вносит вклад в развитие логического мышления, в формирование понятия доказательства. В ходе освоения содержания курса учащиеся получают возможность развить пространственные представления и изобразительные умения, освоить основные факты и методы планиметрии, познакомиться с простейшими фигурами и их свойствами.

В курсе геометрии 7 класса систематизируются знания обучающихся о простейших геометрических фигурах и их свойствах; вводится понятие равенства фигур; вводится понятие теоремы; вырабатывается умение доказывать равенство треугольников с помощью изученных признаков; вводится новый класс задач - на построение с помощью циркуля и линейки; вводится одно из важнейших понятий - понятие параллельных прямых; даётся первое представление об аксиомах и аксиоматическом методе в геометрии; вводится аксиома параллельных прямых; рассматриваются новые интересные и важные свойства треугольников (в данной теме доказывается одна из важнейших теорем геометрии — теорема о сумме углов треугольника. Она позволяет дать классификацию треугольников по углам (остроугольный, прямоугольный, тупоугольный), а также установить некоторые свойства и признаки равенства прямоугольных треугольников).

Курс рационально сочетает логическую строгость и геометрическую наглядность. Увеличивается теоретическая значимость изучаемого материала, расширяются внутренние логические связи курса, повышается роль дедукции, степень абстракции изучаемого материала. Учащиеся должны овладеть приемами аналитико-синтетической деятельности при доказательстве теорем и решении задач. Систематическое изучение курса позволит начать работу по формированию представлений учащихся о строении математической теории, обеспечит развитие логического мышления учащихся. Изложение материала характеризуется постоянным обращением к наглядности, использованием рисунков и чертежей на всех этапах обучения и развитием геометрической интуиции на этой основе. Целенаправленное обращение к примерам из практики развивает умения учащихся вычленять геометрические факты, формы и отношения в предметах и явлениях действительности, использовать язык геометрии для их описания.

### **Особенности рабочей программы.**

**Содержание программы носит локальный (созданный для данного образовательного учреждения) и индивидуальный (разработанный учителем) характер.** При проведении уроков используются разнообразные формы организации учебной деятельности (беседы, работы в группах, практикумы, игровые моменты, деловые игры и другие).

**Образовательные и воспитательные задачи обучения математике должны решаться комплексно с учетом возрастных особенностей учащихся, специфики математики как науки и учебного предмета,** определяющей ее роль и место в общей системе школьного обучения и воспитания.

Принципиальным положением организации школьного математического образования в школе становится уровневая дифференциация обучения. Это означает, что, осваивая курс, одни школьники в своих результатах ограничиваются уровнем обязательной подготовки, зафиксированным в настоящей программе, другие в соответствии со своими склонностями достигают более высоких рубежей. При этом достижение уровня обязательной подготовки становится неременной обязанностью ученика в его учебной работе. В то же время каждый имеет право самостоятельно решить, ограничиться этим уровнем или же продвигаться дальше.

**Учитывая разную степень подготовленности учащихся 7-ых классов к освоению данной программы,** следует всецело способствовать удовлетворению потребностей и запросов школьников, проявляющих интерес, склонности и способности к математике, а также имеющих сложности и трудности в обучении. Для первой категории предусмотрена разработка индивидуальных заданий и рекомендация дополнительной литературы с целью привлечения их к участию в математических кружках, олимпиадах, конкурсах, в работе школьного научного общества (ШНО). Для второй категории осуществлен индивидуальный подход, выражающийся в специальном подборе заданий по уровням сложности, в послеурочных консультациях, в разработке опорных конспектов и схем для овладения тем или иным учебным материалом. Разработанная система упражнений позволяет

организовать уровневую дифференциацию обучения по каждой теме. Акцент в преподавании делается на практическое применение приобретённых навыков.

**Рабочая программа составлена также с учетом специфики образовательного учреждения.**

### **Общеучебные умения, навыки и способы деятельности.**

В ходе преподавания геометрии в 7 классе, работы над формированием у учащихся перечисленных в программе знаний и умений следует обращать внимание на то, чтобы они овладевали умениями общеучебного характера, разнообразными способами деятельности, **приобретали опыт:**

- планирования и осуществления алгоритмической деятельности, выполнения заданных и конструирования новых алгоритмов;
- овладели приемами аналитико-синтетической деятельности при доказательстве теории и решении задач;
- целенаправленно обращались к примерам из практики, что развивает умения учащихся вычленять геометрические факты, формы и отношения в предметах и явлениях действительности, использовали язык геометрии для их описания, приобретали опыт исследовательской деятельности, развития идей, проведения экспериментов, обобщения, постановки и формулирования новых задач;
- ясного, точного, грамотного изложения своих мыслей в устной и письменной речи; проведения доказательных рассуждений, аргументаций, выдвижения гипотез и их обоснования; поиска, систематизации, анализа и классификации информации, использования разнообразных информационных источников, включая учебную и справочную литературу, современные информационные технологии.

### **Результаты обучения.**

Результаты обучения представлены в Требованиях к уровню подготовки и задают систему итоговых результатов обучения, которых должны достигать все выпускники, изучавшие курс геометрии, и достижение которых является обязательным условием положительной аттестации ученика за курс основной школы. Очерченные стандартом рамки содержания и требований ориентированы на развитие учащихся и не должны препятствовать достижению более высоких уровней.

### **ТРЕБОВАНИЯ К РЕЗУЛЬТАТАМ ОСВОЕНИЯ СОДЕРЖАНИЯ КУРСА**

Программа обеспечивает достижение следующих результатов освоения образовательной программы основного общего образования:

*личностные:*

1) формирование ответственного отношения к учению, готовности и способности обучающихся к саморазвитию и самообразованию на основе мотивации к обучению и познанию, выбору дальнейшего образования на базе ориентировки в мире профессий и профессиональных предпочтений, осознанному построению индивидуальной образовательной траектории с учётом устойчивых познавательных интересов;

2) формирование целостного мировоззрения, соответствующего современному уровню развития науки и общественной практики;

3) формирование коммуникативной компетентности в общении и сотрудничестве со сверстниками, старшими и младшими в образовательной, общественно полезной, учебно-исследовательской, творческой и других видах деятельности;

4) умение ясно, точно, грамотно излагать свои мысли в устной и письменной речи, понимать смысл поставленной задачи, выстраивать аргументацию, приводить примеры и контрпримеры;

5) критичность мышления, умение распознавать логически некорректные высказывания, отличать гипотезу от факта;

6) креативность мышления, инициативу, находчивость, активность при решении геометрических задач;

7) умение контролировать процесс и результат учебной математической деятельности;

8) способность к эмоциональному восприятию математических объектов, задач, решений, рассуждений;

*метапредметные:*

1) умение самостоятельно планировать альтернативные пути достижения целей, осознанно выбирать наиболее эффективные способы решения учебных и познавательных задач;

2) умение осуществлять контроль по результату и по способу действия на уровне произвольного внимания и вносить необходимые коррективы;

3) умение адекватно оценивать правильность или ошибочность выполнения учебной задачи, её объективную трудность и собственные возможности её решения;

4) осознанное владение логическими действиями определения понятий, обобщения, установления аналогий, классификации на основе самостоятельного выбора оснований и критериев, установления родовидовых связей;

5) умение устанавливать причинно-следственные связи, строить логическое рассуждение, умозаключение (индуктивное, дедуктивное и по аналогии) и выводы;

6) умение создавать, применять и преобразовывать знаково-символические средства, модели и схемы для решения учебных и познавательных задач;

7) умение организовывать учебное сотрудничество и совместную деятельность с учителем и сверстниками: определять цели, распределять функции и роли участников, общие способы работы; умение работать в группе: находить общее решение и разрешать конфликты на основе согласования позиций и учёта интересов; слушать партнёра; формулировать, аргументировать и отстаивать своё мнение;

8) формирование и развитие учебной и общепользовательской компетентности в области использования информационно-коммуникационных технологий (ИКТ-компетентности);

9) первоначальные представления об идеях и о методах математики как об универсальном языке науки и техники, о средстве моделирования явлений и процессов;

10) умение видеть математическую задачу в контексте проблемной ситуации в других дисциплинах, в окружающей жизни;

11) умение находить в различных источниках информацию, необходимую для решения математических проблем, и представлять её в понятной форме; принимать решение в условиях неполной и избыточной, точной и вероятностной информации;

12) умение понимать и использовать математические средства наглядности (рисунки, чертежи, схемы и др.) для иллюстрации, интерпретации, аргументации;

13) умение выдвигать гипотезы при решении учебных задач и понимать необходимость их проверки;

14) умение применять индуктивные и дедуктивные способы рассуждений, видеть различные стратегии решения задач;

15) понимание сущности алгоритмических предписаний и умение действовать в соответствии с предложенным алгоритмом;

16) умение самостоятельно ставить цели, выбирать и создавать алгоритмы для решения учебных математических проблем;

17) умение планировать и осуществлять деятельность, направленную на решение задач исследовательского характера;

*предметные:*

1) овладение базовым понятийным аппаратом по основным разделам содержания; представление об основных изучаемых понятиях (число, геометрическая фигура) как важнейших математических моделях, позволяющих описывать и изучать реальные процессы и явления;

2) умение работать с геометрическим текстом (анализировать, извлекать необходимую информацию), точно и грамотно выражать свои мысли в устной и письменной речи с применением математической терминологии и символики, использовать различные языки математики, проводить классификации, логические обоснования, доказательства математических утверждений;

3) овладение навыками устных, письменных, инструментальных вычислений;

4) овладение геометрическим языком, умение использовать его для описания предметов окружающего мира, развитие пространственных представлений и изобразительных умений, приобретение навыков геометрических построений;

5) усвоение систематических знаний о плоских фигурах и их свойствах, а также на наглядном уровне – о простейших пространственных телах, умение применять систематические знания о них для решения геометрических и практических задач;

6) умение измерять длины отрезков, величины углов, использовать формулы для нахождения периметров геометрических фигур;

7) умение применять изученные понятия, результаты, методы для решения задач практического характера и задач из смежных дисциплин с использованием при необходимости справочных материалов, калькулятора, компьютера.

#### **Система уроков условна, но все же выделяются следующие виды:**

**Урок-лекция.** Предполагаются совместные усилия учителя и учеников для решения общей проблемной познавательной задачи. На таком уроке используется демонстрационный материал на компьютере, разработанный учителем или учениками.

**Урок-практикум.** На уроке учащиеся работают над различными заданиями в зависимости от своей подготовленности. Виды работ могут быть самыми разными: письменные исследования, решение различных задач, изучение свойств различных функций, практическое применение различных методов решения задач. Компьютер на таких уроках используется как электронный калькулятор, тренажер устного счета, виртуальная лаборатория, источник справочной информации.

**Урок-исследование.** На уроке учащиеся решают проблемную задачу исследовательского характера аналитическим методом и с помощью компьютера с использованием различных лабораторий.

Комбинированный урок предполагает выполнение работ и заданий разного вида.

**Урок-игра.** На основе игровой деятельности учащиеся познают новое, закрепляют изученное, отрабатывают различные учебные навыки.

**Урок решения задач.** Вырабатываются у учащихся умения и навыки решения задач на уровне обязательной и возможной подготовке. Любой учащийся может использовать компьютерную информационную базу по методам решения различных задач, по свойствам элементарных функций и т.д.

**Урок-тест.** Тестирование проводится с целью диагностики пробелов знаний, контроля уровня обученности учащихся, тренировки технике тестирования. Тесты предлагаются как в печатном, так и в компьютерном варианте. Причем в компьютерном варианте всегда с ограничением времени.

**Урок-зачет.** Устный опрос учащихся по заранее составленным вопросам, а также решение задач разного уровня по изученной теме.

**Урок-самостоятельная работа.** Предлагаются разные виды самостоятельных работ.



**Урок-контрольная работа.** Проводится на двух уровнях: уровень обязательной подготовки - «3», уровень возможной подготовки - «4» и «5».

### Учебно-тематический план

№ п/п	Наименование разделов и тем	Всего часов	В том числе на:	
			уроки	контрольные работы
1.	Начальные геометрические сведения	11	10	1
2.	Треугольники	17	16	1
3.	Параллельные прямые	13	12	1
4.	Соотношения между сторонами и углами треугольника.	18	16	2
5.	Повторение. Решение задач.	9	9	-
	Итого:	68	63	5

В зависимости от динамики и качества усвоения материала в течение учебного года может быть произведено перераспределение часов / тем.

## СОДЕРЖАНИЕ ТЕМ УЧЕБНОГО КУРСА

### Глава I. Начальные геометрические сведения

Простейшие геометрические фигуры: прямая, точка, отрезок, луч, угол. Понятие равенства геометрических фигур. Сравнение отрезков и углов. Измерение отрезков, длина отрезка. Измерение углов, градусная мера угла. Смежные и вертикальные углы, их свойства. Перпендикулярные прямые.

**Цель:** систематизировать знания обучающихся о простейших геометрических фигурах и их свойствах; ввести понятие равенства фигур.

В данной теме вводятся основные геометрические понятия и свойства простейших геометрических фигур на основе наглядных представлений обучающихся путем обобщения очевидных или известных из курса математики I— 6 классов геометрических фактов. Понятие аксиомы на начальном этапе обучения не вводится, и сами аксиомы не формулируются в явном виде. Необходимые исходные положения, на основе которых изучаются свойства геометрических фигур, приводятся в описательной форме. Принципиальным моментом данной темы является введение понятия равенства геометрических фигур на основе наглядного понятия наложения. Определенное внимание должно уделяться практическим приложениям геометрических понятий.

### Глава II. Треугольники

Треугольник. Признаки равенства треугольников. Перпендикуляр к прямой. Медианы, биссектрисы и высоты треугольника. Равнобедренный треугольник и его свойства. Задачи на построение с помощью циркуля и линейки.

**Цель:** ввести понятие теоремы; выработать умение доказывать равенство треугольников с помощью изученных признаков; ввести новый класс задач — на построение с помощью циркуля и линейки.

Признаки равенства треугольников являются основным рабочим аппаратом всего курса геометрии. Доказательство большей части теорем курса и также решение многих задач проводится по следующей схеме: поиск равных треугольников — обоснование их равенства с помощью какого-то признака — следствия, вытекающие из равенства треугольников.

Применение признаков равенства треугольников при решении задач дает возможность постепенно накапливать опыт проведения доказательных рассуждений. На начальном этапе изучения и применения признаков равенства треугольников целесообразно использовать задачи с готовыми чертежами.

### Глава III. Параллельные прямые

Признаки параллельности прямых. Аксиома параллельных прямых. Свойства параллельных прямых.

**Цель:** ввести одно из важнейших понятий - понятие параллельных прямых; дать первое представление об аксиомах и аксиоматическом методе в геометрии; ввести аксиому параллельных прямых.

Признаки и свойства параллельных прямых, связанные с углами, образованными при пересечении двух прямых секущей (накрест лежащими, односторонними, соответственными), широко используются в дальнейшем при изучении четырехугольников, подобных треугольников, при решении задач, а также в курсе стереометрии.

### Глава IV. Соотношения между сторонами и углами треугольника

Сумма углов треугольника. Соотношение между сторонами и углами треугольника. Неравенство треугольника. Прямоугольные треугольники, их свойства и признаки равенства. Расстояние от точки до прямой. Расстояние между параллельными прямыми. Построение треугольника по трем элементам.

**Цель:** рассмотреть новые интересные и важные свойства треугольников.

В данной теме доказываемся одна из важнейших теорем геометрии — теорема о сумме углов треугольника. Она позволяет дать классификацию треугольников по углам (остроугольный, прямоугольный, тупоугольный), а также установить некоторые свойства и признаки равенства прямоугольных треугольников.

Понятие расстояния между параллельными прямыми вводится на основе доказанной предварительно теоремы о том, что все точки каждой из двух параллельных прямых равноудалены от другой прямой. Это понятие играет важную роль, и частности используется в задачах на построение.

При решении задач на построение в 7 классе следует ограничиться только выполнением и описанием построения искомой фигуры. В отдельных случаях можно провести устно анализ и доказательство, а элементы исследования должны присутствовать лишь тогда, когда это оговорено условием задачи.

#### Повторение. Решение задач

**Цель:** повторение, обобщение, закрепление умений, знаний и навыков за курс геометрии 7 класса.

### ПЛАНИРУЕМЫЕ РЕЗУЛЬТАТЫ ИЗУЧЕНИЯ КУРСА ГЕОМЕТРИИ В 7 КЛАССЕ

## Геометрические фигуры

Выпускник научится:

- 1) пользоваться языком геометрии для описания предметов окружающего мира и их взаимного расположения;
- 2) распознавать и изображать на чертежах и рисунках геометрические фигуры и их конфигурации;
- 3) находить значения длин линейных элементов фигур и их отношения, градусную меру углов от  $0$  до  $180^\circ$ , применяя определения, свойства и признаки фигур и их элементов, отношения фигур (равенство, симметрии);
- 4) решать задачи на доказательство, опираясь на изученные свойства фигур и отношений между ними и применяя изученные методы доказательств;
- 5) решать несложные задачи на построение, применяя основные алгоритмы построения с помощью циркуля и линейки.

*Выпускник получит возможность:*

- 6) овладеть методами решения задач на вычисления и доказательства: методом от противного, методом перебора вариантов;
- 7) приобрести опыт применения алгебраического аппарата и идей движения при решении геометрических задач;
- 8) овладеть традиционной схемой решения задач на построение с помощью циркуля и линейки: анализ, построение, доказательство и исследование;
- 9) приобрести опыт исследования свойств планиметрических фигур с помощью компьютерных программ.

## Измерение геометрических величин

Выпускник научится:

- 1) использовать свойства измерения длин, площадей и углов при решении задач на нахождение длины отрезка, градусной меры угла;
- 2) вычислять длины линейных элементов фигур и их углы;
- 3) решать практические задачи, связанные с нахождением геометрических величин (используя при необходимости справочники и технические средства).

*Выпускник получит возможность:*

- 1) приобрести опыт применения алгебраического аппарата и идей движения при решении задач.

## Оценка устных ответов учащихся по математике

**Ответ оценивается отметкой «5», если ученик:**

- полно раскрыл содержание материала в объеме, предусмотренном программой и учебником,
- изложил материал грамотным языком в определенной логической последовательности, точно используя математическую терминологию и символику;
- правильно выполнил рисунки, чертежи, графики, сопутствующие ответу;

- показал умение иллюстрировать теоретические положения конкретными примерами, применять их в новой ситуации при выполнении практического задания;
- продемонстрировал усвоение ранее изученных сопутствующих вопросов, сформированность и устойчивость используемых при отработке умений и навыков;
- отвечал самостоятельно без наводящих вопросов учителя. Возможны одна - две неточности при освещении второстепенных вопросов или в выкладках, которые ученик легко исправил по замечанию учителя.

**Ответ оценивается отметкой «4», если он удовлетворяет в основном требованиям на оценку «5», но при этом имеет один из недостатков:**

- в изложении допущены небольшие пробелы, не исказившие математическое содержание ответа;
- допущены один – два недочета при освещении основного содержания ответа, исправленные по замечанию учителя;
- допущены ошибка или более двух недочетов при освещении второстепенных вопросов или в выкладках, легко исправленные по замечанию учителя.

**Отметка «3» ставится в следующих случаях:**

- неполно или непоследовательно раскрыто содержание материала, но показано общее понимание вопроса и продемонстрированы умения, достаточные для дальнейшего усвоения программного материала (определенные «Требованиями к математической подготовке учащихся»);
- имелись затруднения или допущены ошибки в определении понятий, использовании математической терминологии, чертежах, выкладках, исправленные после нескольких наводящих вопросов учителя;
- ученик не справился с применением теории в новой ситуации при выполнении практического задания, но выполнил задания обязательного уровня сложности по данной теме;
- при знании теоретического материала выявлена недостаточная сформированность основных умений и навыков.

**Отметка «2» ставится в следующих случаях:**

- не раскрыто основное содержание учебного материала;
- обнаружено незнание или непонимание учеником большей или наиболее важной части учебного материала;
- допущены ошибки в определении понятий, при использовании математической терминологии, в рисунках, чертежах или графиках, в выкладках, которые не исправлены после нескольких наводящих вопросов учителя.

**Отметка «1» ставится, если:**

- ученик обнаружил полное незнание и непонимание изучаемого учебного материала или не смог ответить ни на один из поставленных вопросов по изучаемому материалу.

### **Оценка письменных контрольных работ учащихся по математике**

**Отметка «5» ставится, если:**

- работа выполнена полностью;
- в логических рассуждениях и обосновании решения нет пробелов и ошибок;

- в решении нет математических ошибок (возможна одна неточность, описка, не являющаяся следствием незнания или непонимания учебного материала).

**Отметка «4» ставится, если:**

- работа выполнена полностью, но обоснования шагов решения недостаточны (если умение обосновывать рассуждения не являлось специальным объектом проверки);
- допущена одна ошибка или два-три недочета в выкладках, рисунках, чертежах или графиках (если эти виды работы не являлись специальным объектом проверки).

**Отметка «3» ставится, если:**

- допущены более одной ошибки или более двух-трех недочетов в выкладках, чертежах или графиках, но учащийся владеет обязательными умениями по проверяемой теме.

**Отметка «2» ставится, если:**

- допущены существенные ошибки, показавшие, что учащийся не владеет обязательными умениями по данной теме в полной мере.

**Отметка «1» ставится, если:**

- работа показала полное отсутствие у учащегося обязательных знаний и умений по проверяемой теме или значительная часть работы выполнена не самостоятельно.

### **Общая классификация ошибок**

**Грубыми считаются ошибки:**

- незнание определения основных понятий, законов, правил, основных положений теории, незнание формул, общепринятых символов обозначений величин, единиц их измерения;
- незнание наименований единиц измерения;
- неумение выделить в ответе главное;
- неумение применять знания, алгоритмы для решения задач;
- неумение делать выводы и обобщения;
- неумение читать и строить графики;
- потеря корня или сохранение постороннего корня;
- отбрасывание без объяснений одного из них;
- равнозначные им ошибки;
- вычислительные ошибки, если они не являются опиской;
- логические ошибки.

**К негрубым ошибкам следует отнести:**

- неточность формулировок, определений, понятий, теорий, вызванная неполнотой охвата основных признаков определяемого понятия или заменой одного - двух из этих признаков второстепенными;
- неточность графика;
- нерациональный метод решения задачи или недостаточно продуманный план ответа (нарушение логики, подмена отдельных основных вопросов второстепенными);
- нерациональные методы работы со справочной и другой литературой;
- неумение решать задачи, выполнять задания в общем виде.

**Недочетами являются:**

- нерациональные приемы вычислений и преобразований;
- небрежное выполнение записей, чертежей, графиков.

### **Система оценивания**

Опираясь на эти рекомендации, учитель оценивает знания, умения и навыки учащихся с учетом их индивидуальных особенностей.

1. Содержание и объем материала, подлежащего проверке, определяется программой. При проверке усвоения материала нужно выявлять полноту, прочность усвоения учащимися теории и умения применять ее на практике в знакомых и незнакомых ситуациях.

2. Основными формами проверки знаний и умений, учащихся по математике являются письменная контрольная работа и устный опрос.

3. Среди погрешностей выделяются ошибки и недочеты.

Погрешность считается ошибкой, если она свидетельствует о том, что ученик не овладел основными знаниями, умениями, указанными в программе.

К недочетам относятся погрешности, свидетельствующие о недостаточно полном или недостаточно прочном усвоении основных знаний и умений или об отсутствии знаний, которые в программе не считаются основными. Недочетами также считаются: погрешности, которые не привели к искажению смысла полученного учеником задания или способа его выполнения: неаккуратная запись, небрежное выполнение чертежа.

4. Задания для устного и письменного опроса учащихся состоят из теоретических вопросов и задач.

Ответ на теоретический вопрос считается безупречным, если по своему содержанию полностью соответствует вопросу, содержит все необходимые теоретические факты и обоснованные выводы, а его изложение и письменная запись математически грамотны и отличаются последовательностью и аккуратностью.

Решение задачи считается безупречным, если правильно выбран способ решения, само решение сопровождается необходимыми объяснениями, верно, выполнены нужные вычисления и преобразования, получен верный ответ, последовательно и аккуратно записано решение.

5. Оценка ответа учащихся при устном и письменном опросе производится по пятибалльной системе.

6. Учитель может повысить отметку за оригинальный ответ на вопрос или оригинальное решение задачи, которые свидетельствуют о высоком математическом развитии учащегося, за решение более сложной задачи или ответ на более сложный вопрос, предложенные учащемуся дополнительно после выполнения им задания.

7. Итоговые отметки (за тему, четверть, курс) выставляются по состоянию знаний на конец этапа обучения с учетом текущих отметок.

### **Перечень учебно-методического и материально-технического обеспечения образовательного процесса.**

#### **Материально-техническое обеспечение учебного предмета**

1. Компьютер
2. Проектор
3. Учебные диски «Живая геометрия», «Уроки геометрии Кирилла и Мефодия» и др.
4. Плакаты, таблицы к урокам

## Компьютерное обеспечение уроков

В разделе рабочей программы «Компьютерное обеспечение» спланировано применение имеющихся компьютерных продуктов: демонстрационный материал, задания для устного опроса учащихся, тренировочные упражнения, а также различные электронные учебники.

### *Демонстрационный материал (слайды).*

Создается с целью обеспечения наглядности при изучении нового материала, использования при ответах учащихся. Применение анимации при создании такого компьютерного продукта позволяет рассматривать вопросы математической теории в движении, обеспечивает другой подход к изучению нового материала, вызывает повышенное внимание и интерес у учащихся.

При решении любых задач использование графической интерпретации условия задачи, ее решения позволяет учащимся понять математическую идею решения, более глубоко осмыслить теоретический материал по данной теме.

### *Задания для устного счета.*

Эти задания дают возможность в устном варианте отрабатывать различные вопросы теории и практики, применяя принципы наглядности, доступности. Их можно использовать на любом уроке в режиме учитель – ученик, взаимопроверки, а также в виде тренировочных занятий.

### *Тренировочные упражнения.*

Включают в себя задания с вопросами и наглядными ответами, составленными с помощью анимации. Они позволяют ученику самостоятельно отрабатывать различные вопросы математической теории и практики.

### *Электронные учебники.*

Они используются в качестве виртуальных лабораторий при проведении практических занятий, уроков введения новых знаний. В них заключен большой теоретический материал, много тренажеров, практических и исследовательских заданий, справочного материала. На любом из уроков возможно использование компьютерных устных упражнений, применение тренажера устного счета, что активизирует мыслительную деятельность учащихся, развивает вычислительные навыки, так как позволяет осуществить иной подход к изучаемой теме.

Использование компьютерных технологий в преподавании математики позволяет непрерывно менять формы работы на уроке, постоянно чередовать устные и письменные упражнения, осуществлять разные подходы к решению математических задач, а это постоянно создает и поддерживает интеллектуальное напряжение учащихся, формирует у них устойчивый интерес к изучению данного предмета.

### **Интернет-ресурсы.**

1. [www.edu.ru](http://www.edu.ru) (сайт МОиН РФ).
2. [www.school.edu.ru](http://www.school.edu.ru) (Российский общеобразовательный портал).
3. [www.pedsovet.org](http://www.pedsovet.org) (Всероссийский Интернет-педсовет)
4. [www.fipi.ru](http://www.fipi.ru) (сайт Федерального института педагогических измерений).
5. [www.math.ru](http://www.math.ru) (Интернет-поддержка учителей математики).
6. [www.mccme.ru](http://www.mccme.ru) (сайт Московского центра непрерывного математического образования).
7. [www.it-n.ru](http://www.it-n.ru) (сеть творческих учителей)
8. [www.som.fsio.ru](http://www.som.fsio.ru) (сетевое объединение методистов)
9. [http:// mat.1september.ru](http://mat.1september.ru) (сайт газеты «Математика»)
10. <http:// festival.1september.ru> (фестиваль педагогических идей «Открытый урок» («Первое сентября»)).

11. [www.eidos.ru/gournal/content.htm](http://www.eidos.ru/gournal/content.htm) (Интернет - журнал «Эйдос»).
12. [www.exponenta.ru](http://www.exponenta.ru) (образовательный математический сайт).
13. [kvant.mccme.ru](http://kvant.mccme.ru) (электронная версия журнала «Квант»).
14. [www.math.ru/lib](http://www.math.ru/lib) (электронная математическая библиотека).
15. <http://school.collection.informika.ru> (единая коллекция цифровых образовательных ресурсов).
16. [www.kokch.kts.ru](http://www.kokch.kts.ru) (on-line тестирование 5-11 классы).
17. <http://teacher.fio.ru> (педагогическая мастерская, уроки в Интернете и другое).
18. [www.uic.ssu.samara.ru](http://www.uic.ssu.samara.ru) (путеводитель «В мире науки» для школьников).
19. <http://mega.km.ru> (Мегаэнциклопедия Кирилла и Мефодия).
20. <http://www.rubricon.ru>, <http://www.encyclopedia.ru> (сайты «Энциклопедий»).

## ЛИТЕРАТУРА, ЭОР И СРЕДСТВА ОБУЧЕНИЯ

### Перечень учебно-методического обеспечения

Автор	Название учебника	Издательство, год издания
Л.С. Атанасян и др.	Геометрия 7-9 класс: учебник для общеобразовательных учреждений	М.: Просвещение, 2016-2020

#### Для учителя

1. Л.С. Атанасян, В.Ф. Бутузов и др. Изучение геометрии в 7-9 классах: методические рекомендации к учебнику. Книга для учителя. М: Просвещение, 2015
2. Б.Г. Зив, В.М. Мейлер. Дидактические материалы по геометрии для 7 класса. М: Просвещение, 2015
3. Г.И. Кукарцева. Сборник задач по геометрии в рисунках и тестах. 7-9 класс. Киров: «Аквариум», ГИППВ, 2013
4. Е.М. Рабинович. «Задачи и упражнения на готовых чертежах. Геометрия. 7-9 класс». М. – Харьков, «Илекса», «Гимназия», 2013
6. П.И. Алтынов. Геометрия. Тесты 7-9 класс. М., Дрофа, 2014
7. ИКТ: виртуальная школа Кирилла и Мефодия/ Уроки геометрии. 7 класс
8. образовательная коллекция/ Планиметрия. 7-9 класс

#### Для учащихся

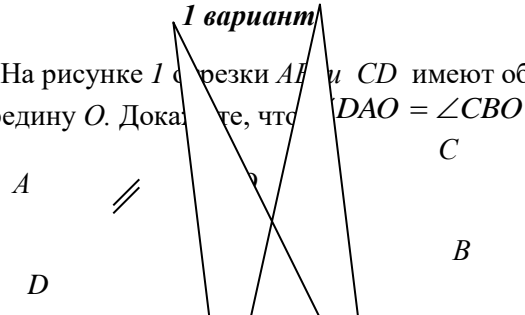
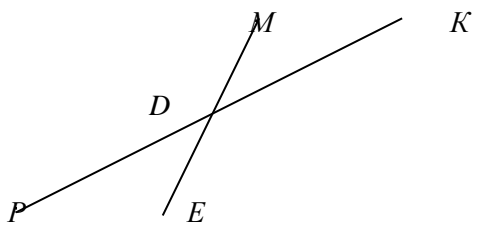
1. Е.М. Рабинович. «Задачи и упражнения на готовых чертежах. Геометрия. 7-9 класс». М. – Харьков, «Илекса», «Гимназия», 2013
2. А.С. Ершова, В.В. Голобородько. Самостоятельные и контрольные работы по алгебре и геометрии для 7 кл. Разноуровневые дидактические материалы. М – Харьков «Илекса», «Гимназия», 2013
3. Л.М. Короткова, Н.В. Савинцева. Геометрия: Тесты: Рабочая тетрадь. 7 класс – М: Рольф, 2014 г.

Контрольная работа № 1.	
<i>1 вариант.</i>	<i>2 вариант.</i>
1). Три точки $B$ , $C$ , и $D$ лежат на одной прямой. Известно, что $BD = 17$ см, $DC = 25$ см. Какой может быть длина отрезка $BC$ ?	1). Три точки $M$ , $N$ и $K$ лежат на одной прямой. Известно, что $MN = 15$ см, $NK = 18$ см. Каким может быть расстояние $MK$ ?

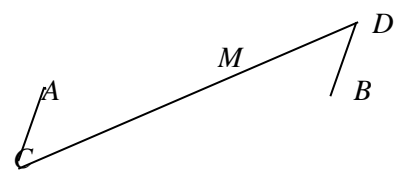
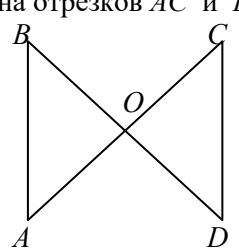


<p>2). Сумма вертикальных углов <math>MOE</math> и <math>DOC</math>, образованных при пересечении прямых <math>MC</math> и <math>DE</math>, равна <math>204^\circ</math>. Найдите угол <math>MOD</math>.</p> <p>3). С помощью транспортира начертите угол, равный <math>78^\circ</math>, и проведите биссектрису смежного с ним угла.</p>	<p>2). Сумма вертикальных углов <math>AOB</math> и <math>COD</math>, образованных при пересечении прямых <math>AD</math> и <math>BC</math>, равна <math>108^\circ</math>. Найдите угол <math>BOD</math>.</p> <p>3). С помощью транспортира начертите угол, равный <math>132^\circ</math>, и проведите биссектрису одного из смежных с ним углов.</p>
---	--

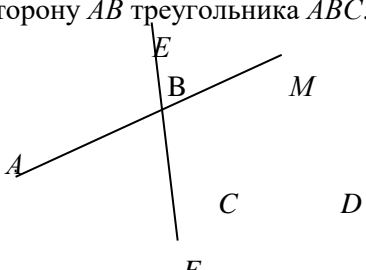
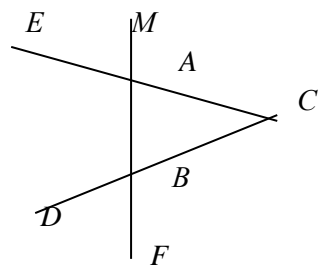
**Контрольная работа № 2.**

<p align="center"><b>1 вариант</b></p> <p>1). На рисунке 1 отрезки <math>AE</math> и <math>CD</math> имеют общую середину <math>O</math>. Докажите, что <math>\angle DAO = \angle CBO</math>.</p>  <p>2). Луч <math>AD</math> – биссектриса угла <math>A</math>. На сторонах угла <math>A</math> отмечены точки <math>B</math> и <math>C</math> так, что <math>\angle ADB = \angle ADC</math>. Докажите, что <math>AB = AC</math>.</p> <p>3). В равнобедренном треугольнике с периметром <math>48</math> см боковая сторона относится к основанию как <math>5 : 2</math>. Найдите стороны треугольника.</p>	<p align="center"><b>2 вариант.</b></p> <p>1). На рисунке 1 отрезки <math>ME</math> и <math>PK</math> точкой <math>D</math> делятся пополам. Докажите, что <math>\angle KMD = \angle PED</math>.</p>  <p>2). На сторонах угла <math>D</math> отмечены точки <math>M</math> и <math>K</math> так, что <math>DM = DK</math>. Точка <math>P</math> лежит внутри угла <math>D</math> и <math>PK = PM</math>. Докажите, что луч <math>DP</math> – биссектриса угла <math>MDK</math>.</p> <p>3). В равнобедренном треугольнике с периметром <math>56</math> см основание относится к боковой стороне как <math>2 : 3</math>. Найдите стороны треугольника.</p>
--	--

**Контрольная работа № 3.**

<p align="center"><b>1 вариант.</b></p> <p>1). Отрезки <math>EF</math> и <math>PQ</math> пересекаются в их середине <math>M</math>. Докажите, что <math>PE \parallel QF</math>.</p> <p>2). Отрезок <math>DM</math> – биссектриса треугольника <math>CDE</math>. Через точку <math>M</math> проведена прямая, параллельная стороне <math>CD</math> и пересекающая сторону <math>DE</math> в точке <math>N</math>. Найдите углы треугольника <math>DMN</math>, если <math>\angle CDE = 68^\circ</math>.</p> <p>3). На рисунке <math>AC \parallel BD</math>, точка <math>M</math> – середина отрезка <math>AB</math>. Докажите, что <math>M</math> – середина отрезка <math>CD</math>.</p> 	<p align="center"><b>2 вариант.</b></p> <p>1). Отрезки <math>MN</math> и <math>EF</math> пересекаются в их середине <math>P</math>. Докажите, что <math>EN \parallel MF</math>.</p> <p>2). Отрезок <math>AD</math> – биссектриса треугольника <math>ABC</math>. Через точку <math>D</math> проведена прямая, параллельная стороне <math>FD</math> и пересекающая сторону <math>AC</math> в точке <math>F</math>. Найдите углы треугольника <math>ADF</math>, если <math>\angle BAC = 72^\circ</math>.</p> <p>3). На рисунке <math>AB \parallel DC</math>, <math>AB = DC</math>. Докажите, что точка <math>O</math> – середина отрезков <math>AC</math> и <math>BD</math>.</p> 
---	---

**Контрольная работа № 4.**

<i>1 вариант.</i>	<i>2 вариант.</i>
<p>1). На рисунке:  <math>\angle ABE = 104^\circ</math>, <math>\angle DCF = 76^\circ</math>, <math>AC = 12</math> см.            Найдите сторону <math>AB</math> треугольника <math>ABC</math>.</p>  <p>2). В треугольнике <math>CDE</math> точка <math>M</math> лежит на стороне <math>CE</math>, причём <math>\angle CMD</math> - острый. Докажите, что <math>DE &gt; DM</math>.</p> <p>3). Периметр равнобедренного тупоугольного треугольника равен <math>45</math> см, а одна из его сторон больше другой на <math>9</math> см. Найдите стороны треугольника.</p>	<p>1). На рисунке:  <math>\angle BAE = 112^\circ</math>, <math>\angle DBF = 68^\circ</math>, <math>BC = 9</math> см.            Найдите сторону <math>AC</math> треугольника <math>ABC</math>.</p>  <p>2). В треугольнике <math>MNP</math> точка <math>K</math> лежит на стороне <math>MN</math>, причём <math>\angle NKP</math> - острый. Докажите, что <math>KP &lt; MP</math>.</p> <p>3). Одна из сторон тупоугольного равнобедренного треугольника на <math>17</math> см меньше другой. Найдите стороны этого треугольника, если его периметр равен <math>77</math> см.</p>

### Контрольная работа № 5.

<i>1 вариант.</i>	<i>2 вариант.</i>
<p>1). В остроугольном треугольнике <math>MNP</math> биссектриса угла <math>M</math> пересекает высоту <math>NK</math> в точке <math>O</math>, причём <math>OK = 9</math> см. Найдите расстояние от точки <math>O</math> до прямой <math>MN</math>.</p> <p>2). Постройте прямоугольный треугольник по гипотенузе и острому углу.</p> <p>3). Один из углов прямоугольного треугольника равен <math>60^\circ</math>, а сумма гипотенузы и меньшего катета равна <math>42</math> см. Найдите гипотенузу.</p>	<p>1). В прямоугольном треугольнике <math>DCE</math> с прямым углом <math>C</math> проведена биссектриса <math>EF</math>, причём <math>FC = 13</math> см. Найдите расстояние от точки <math>F</math> до прямой <math>DE</math>.</p> <p>2). Постройте прямоугольный треугольник по катету и прилежащему к нему острому углу.</p> <p>3). В треугольнике <math>ABC</math> <math>\angle B = 110^\circ</math>, биссектрисы углов <math>A</math> и <math>C</math> пересекаются в точке <math>O</math>. Найдите угол <math>AOC</math>.</p>

### Итоговая контрольная работа

<i>1 вариант.</i>	<i>2 вариант.</i>
<p>1). В равнобедренном треугольнике <math>ABC</math> с основанием <math>AC</math> угол <math>B</math> равен <math>42^\circ</math>. Найдите два других угла треугольника <math>ABC</math>.</p> <p>2). Величины смежных углов пропорциональны числам <math>5</math> и <math>7</math>. Найдите разность между этими углами.</p> <p>3). В прямоугольном треугольнике <math>ABC</math> <math>\angle C = 90^\circ</math>, <math>\angle A = 30^\circ</math>, <math>AC = 10</math> см, <math>CD \perp AB</math>, <math>DE \perp AC</math>. Найдите <math>AE</math>.</p> <p>4). В треугольнике <math>MPK</math> угол <math>P</math> составляет <math>60^\circ</math> угла <math>K</math>, а угол <math>M</math> на <math>4^\circ</math> больше угла <math>P</math>. Найдите угол <math>P</math>.</p>	<p>1). В равнобедренном треугольнике <math>ABC</math> с основанием <math>AC</math> сумма углов <math>A</math> и <math>C</math> равна <math>156^\circ</math>. Найдите углы треугольника <math>ABC</math>.</p> <p>2). Величины смежных углов пропорциональны числам <math>4</math> и <math>11</math>. Найдите разность между этими углами.</p> <p>3). В прямоугольном треугольнике <math>ABC</math> <math>\angle C = 90^\circ</math>, <math>\angle B = 30^\circ</math>, <math>BC = 18</math> см, <math>CK \perp AB</math>, <math>KM \perp BC</math>. Найдите <math>MB</math>.</p> <p>4). В треугольнике <math>BDE</math> угол <math>B</math> составляет <math>30^\circ</math> угла <math>D</math>, а угол <math>E</math> на <math>19^\circ</math> больше угла <math>D</math>. Найдите угол <math>B</math>.</p>